

제 2 교시

수학 영역

출수형

5지선다형

1. $\left(\frac{4}{2\sqrt{2}}\right)^{2+\sqrt{2}}$ 의 값은? [2점]

- ① $\frac{1}{4}$ ② $\frac{1}{2}$ ③ 1 ④ 2 ⑤ 4

2. $\lim_{x \rightarrow \infty} \frac{\sqrt{x^2-2}+3x}{x+5}$ 의 값은? [2점]

- ① 1 ② 2 ③ 3 ④ 4 ⑤ 5

3. 공비가 양수인 등비수열 $\{a_n\}$ 이

$$a_2 + a_4 = 30, \quad a_4 + a_6 = \frac{15}{2}$$

를 만족시킬 때, a_1 의 값은? [3점]

- ① 48 ② 56 ③ 64 ④ 72 ⑤ 80

4. 다항함수 $f(x)$ 에 대하여 함수 $g(x)$ 를

$$g(x) = x^2 f(x)$$

라 하자. $f(2) = 1, f'(2) = 3$ 일 때, $g'(2)$ 의 값은? [3점]

- ① 12 ② 14 ③ 16 ④ 18 ⑤ 20

5. $\tan \theta < 0$ 이고 $\cos\left(\frac{\pi}{2} + \theta\right) = \frac{\sqrt{5}}{5}$ 일 때, $\cos \theta$ 의 값은? [3점]

- ① $-\frac{2\sqrt{5}}{5}$ ② $-\frac{\sqrt{5}}{5}$ ③ 0
 ④ $\frac{\sqrt{5}}{5}$ ⑤ $\frac{2\sqrt{5}}{5}$

6. 함수 $f(x) = 2x^3 - 9x^2 + ax + 5$ 는 $x = 1$ 에서 극대이고,
 $x = b$ 에서 극소이다. $a + b$ 의 값은? (단, a, b 는 상수이다.) [3점]

- ① 12 ② 14 ③ 16 ④ 18 ⑤ 20

7. 모든 항이 양수이고 첫째항과 공차가 같은 등차수열 $\{a_n\}$ 이

$$\sum_{k=1}^{15} \frac{1}{\sqrt{a_k} + \sqrt{a_{k+1}}} = 2$$

를 만족시킬 때, a_4 의 값은? [3점]

- ① 6 ② 7 ③ 8 ④ 9 ⑤ 10

8. 점 $(0, 4)$ 에서 곡선 $y = x^3 - x + 2$ 에 그은 접선의 x 절편은? [3점]

- ① $-\frac{1}{2}$ ② -1 ③ $-\frac{3}{2}$ ④ -2 ⑤ $-\frac{5}{2}$

9. 함수

$$f(x) = a - \sqrt{3}\tan 2x$$

가 닫힌구간 $[-\frac{\pi}{6}, b]$ 에서 최댓값 7, 최솟값 3을 가질 때, $a \times b$ 의 값은? (단, a, b 는 상수이다.) [4점]

- ① $\frac{\pi}{2}$ ② $\frac{5\pi}{12}$ ③ $\frac{\pi}{3}$ ④ $\frac{\pi}{4}$ ⑤ $\frac{\pi}{6}$

$$a = 4$$

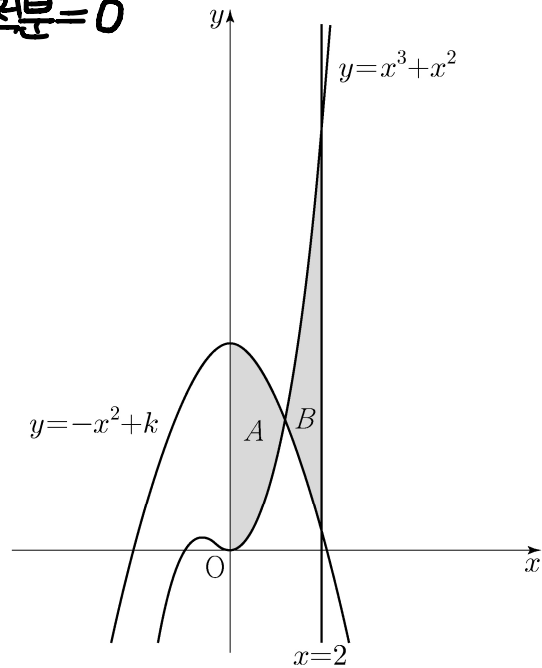
$$4 - \sqrt{3}\tan 2b = 3$$

$$b = \frac{\pi}{12}$$

10. 두 곡선 $y = x^3 + x^2$, $y = -x^2 + k$ 와 y 축으로 둘러싸인 부분의 넓이를 A , 두 곡선 $y = x^3 + x^2$, $y = -x^2 + k$ 와 직선 $x = 2$ 로 둘러싸인 부분의 넓이를 B 라 하자. $A = B$ 일 때, 상수 k 의 값은? (단, $4 < k < 5$) [4점]

- ① $\frac{25}{6}$ ② $\frac{13}{3}$ ③ $\frac{9}{2}$ ④ $\frac{14}{3}$ ⑤ $\frac{29}{6}$

배서 정적분 = 0



$$\int_0^2 (x^3 + 2x^2 - k) dx = 0$$

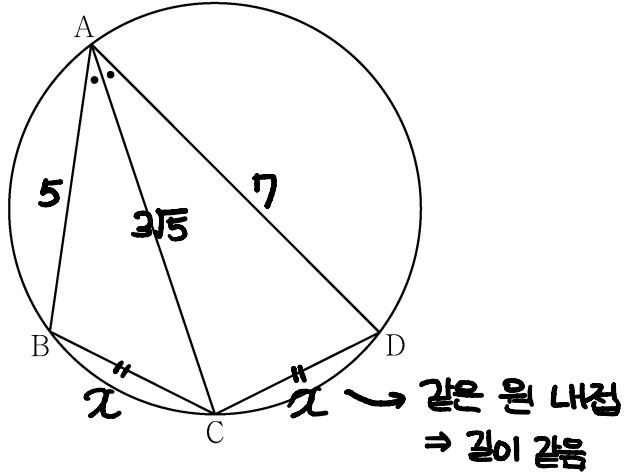
$$2k = \frac{28}{3}$$

$$\therefore k = \frac{14}{3}$$

11. 그림과 같이 사각형 ABCD가 한 원에 내접하고

$$\overline{AB} = 5, \overline{AC} = 3\sqrt{5}, \overline{AD} = 7, \angle BAC = \angle CAD$$

일 때, 이 원의 반지름의 길이는? [4점]



- ① $\frac{5\sqrt{2}}{2}$
- ② $\frac{8\sqrt{5}}{5}$
- ③ $\frac{5\sqrt{5}}{3}$
- ④ $\frac{8\sqrt{2}}{3}$
- ⑤ $\frac{9\sqrt{3}}{4}$

코사인 법칙 : 각이 같음

$$\cos \theta = \frac{5^2 + (3\sqrt{5})^2 - x^2}{2 \cdot 5 \cdot 3\sqrt{5}} = \frac{7^2 + (3\sqrt{5})^2 - x^2}{2 \cdot 7 \cdot 3\sqrt{5}}$$

대입 $7(70 - x^2) = 5(94 - x^2)$
 $x = \sqrt{10}$

$$\cos \theta = \frac{2}{\sqrt{5}} \quad \sin \theta = \frac{1}{\sqrt{5}}$$

$$2R = \frac{x}{\sin \theta} = 5\sqrt{2}$$

$$\therefore R = \frac{5\sqrt{2}}{2}$$

12. 실수 전체의 집합에서 연속인 함수 $f(x)$ 가 다음 조건을 만족시킨다.

$$n-1 \leq x < n \text{ 일 때, } |f(x)| = |6(x-n+1)(x-n)| \text{ 이다.}$$

(단, n 은 자연수이다.)

열린구간 $(0, 4)$ 에서 정의된 함수

$$g(x) = \int_0^x f(t) dt - \int_x^4 f(t) dt$$

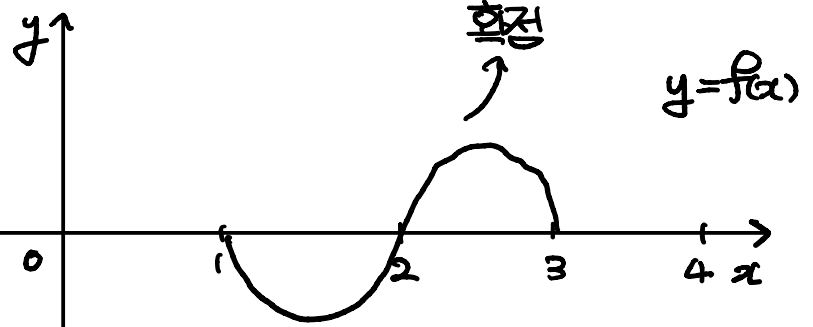
가 $x=2$ 에서 최솟값 0을 가질 때, $\int_{\frac{1}{2}}^4 f(x) dx$ 의 값은? [4점]

- ① $-\frac{3}{2}$
- ② $-\frac{1}{2}$
- ③ $\frac{1}{2}$
- ④ $\frac{3}{2}$
- ⑤ $\frac{5}{2}$

→ $f(x)$ 가 $(n-1, n)$ 에서 위로 볼록 or 아래로 볼록인 이차함수
 → 조건에 맞게 선택

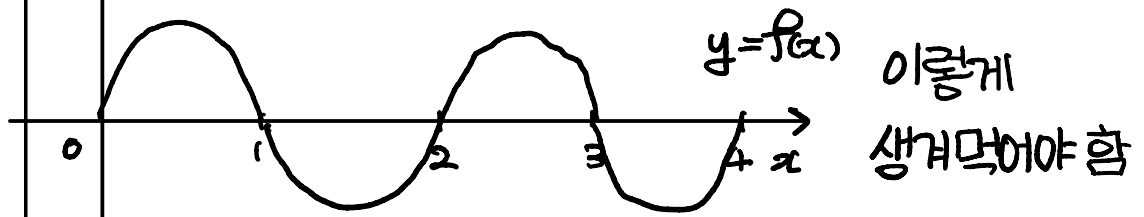
→ 간단하게 해석 : $g(2) = 0$ 은 자명
 이때 최소이므로 g 가 2에서 극소일 것
 g' 의 개형은 $\nearrow \searrow$
 * 연속함수의 정적분함수는 반드시 미분 가능하다.

$$g'(x) = 2f(x) \text{ 이므로}$$



g 는 $(0, 4)$ 에서 음수일 수 있다.

$$g(x) = 2 \int_0^x f(x) dx - \int_0^4 f(x) dx \text{ 이므로}$$



$$\therefore \int_{\frac{1}{2}}^4 f(x) dx = -\frac{1}{2}$$

계산 Tip) 이차함수 넓이 공식

13. 자연수 $m(m \geq 2)$ 에 대하여 m^2 의 n 제곱근 중에서 정수가 존재하도록 하는 2 이상의 자연수 n 의 개수를 $f(m)$ 이라 할 때,

$\sum_{m=2}^9 f(m)$ 의 값은? [4점] 기억*

- ① 37 ② 42 ③ 47 ④ 52 ⑤ 57

m 에 제한 \Rightarrow 노가다 가능

$m^{\frac{2}{n}}$ 가 정수여야 하므로
 m 이 제곱수인 경우를 분류

i) $m = 4, 9$ 이 아닌
 \Rightarrow 2가 정수 $\Rightarrow n$ 은 24의 약수 \Rightarrow 각 7개

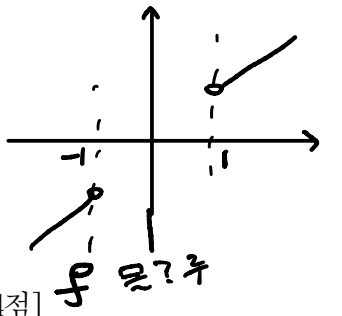
ii) $m = 8$
 \Rightarrow 같은 이유로 8개

iii) $m = 2, 3, 5, 6, 7$
 \Rightarrow 같은 이유로 각 5개

$14 + 8 + 25 = 47$

14. 다항함수 $f(x)$ 에 대하여 함수 $g(x)$ 를 다음과 같이 정의한다.

$$g(x) = \begin{cases} x & (x < -1 \text{ 또는 } x > 1) \\ f(x) & (-1 \leq x \leq 1) \end{cases}$$



함수 $h(x) = \lim_{t \rightarrow 0+} g(x+t) \times \lim_{t \rightarrow 2+} g(x+t)$ 에 대하여

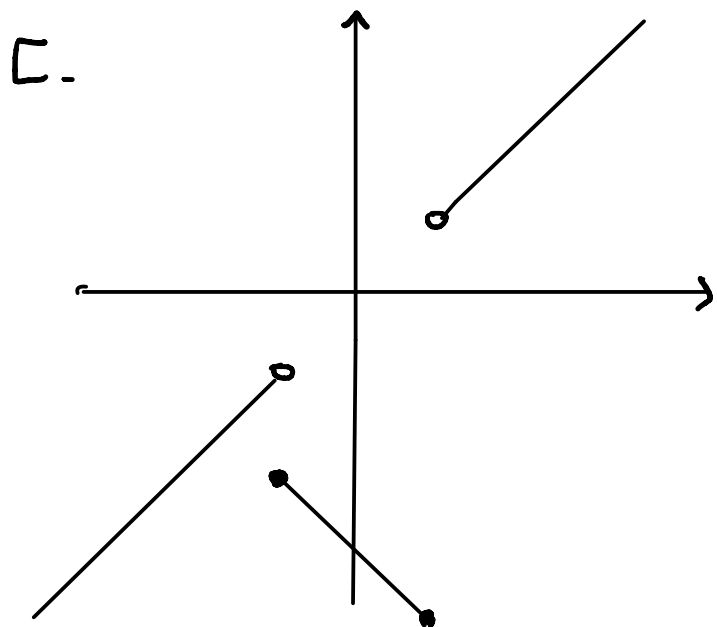
<보기>에서 옳은 것만을 있는 대로 고른 것은? [4점]

- <보 기>
- ㄱ. $h(1) = 3$
 - ㄴ. 함수 $h(x)$ 는 실수 전체의 집합에서 연속이다.
 - ㄷ. 함수 $g(x)$ 가 닫힌구간 $[-1, 1]$ 에서 감소하고 $g(-1) = -2$ 이면 함수 $h(x)$ 는 실수 전체의 집합에서 최솟값을 갖는다.

- ① ㄱ ② ㄴ ③ ㄱ, ㄴ ④ ㄱ, ㄷ ⑤ ㄴ, ㄷ

ㄱ. $h(1) = g(1+) \times g(3+) = 3 \quad (O)$

ㄴ. 상수함수로 f 잡으면 g 틀림 (X)
ex) $f(x) = 100$



대충 이렇게 잡으면 최소 없음 (X)

15. 모든 항이 자연수이고 다음 조건을 만족시키는 모든 수열 $\{a_n\}$ 에 대하여 a_9 의 최댓값과 최솟값을 각각 M, m 이라 할 때, $M+m$ 의 값은? [4점]

(가) $a_7 = 40$

(나) 모든 자연수 n 에 대하여

$$a_{n+2} = \begin{cases} a_{n+1} + a_n & (a_{n+1} \text{이 } 3 \text{의 배수가 아닌 경우}) \\ \frac{1}{3}a_{n+1} & (a_{n+1} \text{이 } 3 \text{의 배수인 경우}) \end{cases}$$

이다.

- ① 216 ② 218 ③ 220 ④ 222 ⑤ 224

$a_6 + a_5 = 40$ or $a_6 = 120$ 이다.

($a_6 \neq 3$ 의 배수)



... 120 40 160 200 ...
 a_n a_9

(누가 보든 이게 Max)

케이스 분류

i) $a_6 = 3R - 1$ ($R \in \mathbb{N}$)

$a_5 = 41 - 3R \Rightarrow 1 \leq R \leq 13$

$a_4 = 6R - 42$

$3(41 - 3R) = 6R - 42$

$R = 11$

$\therefore a_9 = 24$

ii) $a_6 = 3R - 2$ ($R \in \mathbb{N}$)

$a_5 = 42 - 3R$

$3(3R - 2) = 42 - 3R$

$R = 4$

$\therefore a_9 = 90$

$M = 200$

$m = 24$

단답형

16. 방정식

$$\log_2(3x+2) = 2 + \log_2(x-2)$$

를 만족시키는 실수 x 의 값을 구하시오. [3점]

17. 함수 $f(x)$ 에 대하여 $f'(x) = 4x^3 - 2x$ 이고 $f(0) = 3$ 일 때, $f(2)$ 의 값을 구하시오. [3점]

18. 두 수열 $\{a_n\}$, $\{b_n\}$ 에 대하여

$$\sum_{k=1}^5 (3a_k + 5) = 55, \quad \sum_{k=1}^5 (a_k + b_k) = 32$$

일 때, $\sum_{k=1}^5 b_k$ 의 값을 구하시오. [3점]

19. 방정식 $2x^3 - 6x^2 + k = 0$ 의 서로 다른 양의 실근의 개수가 2가 되도록 하는 정수 k 의 개수를 구하시오. [3점]

20. 수직선 위를 움직이는 점 P의 시각 $t(t \geq 0)$ 에서의 속도 $v(t)$ 와 가속도 $a(t)$ 가 다음 조건을 만족시킨다.

(가) $0 \leq t \leq 2$ 일 때, $v(t) = 2t^3 - 8t$ 이다.

(나) $t \geq 2$ 일 때, $a(t) = 6t + 4$ 이다.

시각 $t=0$ 에서 $t=3$ 까지 점 P가 움직인 거리를 구하시오. [4점]

거리 = 속력($|v(t)|$)의 적분

$$v(t) = \begin{cases} 2t^3 - 8t & (0 \leq t \leq 2) \\ 3t^2 + 4t + C & (t \geq 2) \end{cases}$$

$$v(2) = 0 \Rightarrow C = -20$$

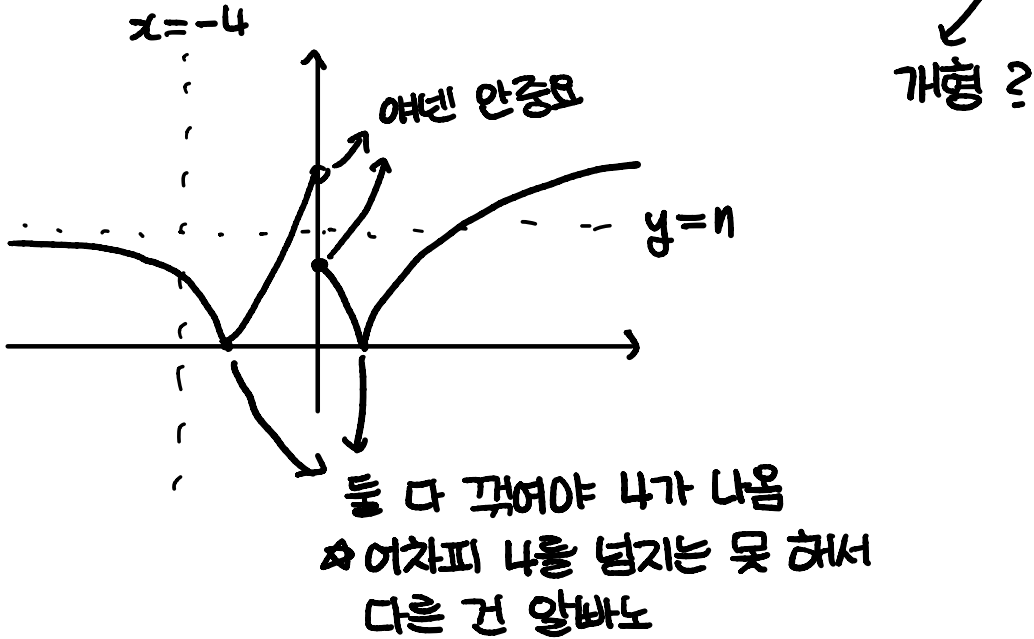
$$S = \int_0^2 |2t^3 - 8t| dt + \int_2^3 |3t^2 + 4t - 20| dt = 17$$

17

21. 자연수 n 에 대하여 함수 $f(x)$ 를

$$f(x) = \begin{cases} |3^{x+2} - n| & (x < 0) \\ |\log_2(x+4) - n| & (x \geq 0) \end{cases}$$

이라 하자. 실수 t 에 대하여 x 에 대한 방정식 $f(x) = t$ 의 서로 다른 실근의 개수를 $g(t)$ 라 할 때, 함수 $g(t)$ 의 최댓값이 4가 되도록 하는 모든 자연수 n 의 값의 합을 구하시오. [4점]



둘 다 꺾어야 4가 나옴
 ☆어차피 4를 넘지는 못 해서
 다른 건 알바노

$$\begin{aligned} 9 - n > 0, \\ 2 - n < 0 \end{aligned} \Rightarrow \text{꺾이는 조건}$$

$$2 < n < 9$$

$$\Sigma = 33$$

33

22. 최고차항의 계수가 1인 삼차함수 $f(x)$ 와 실수 전체의 집합에서 연속인 함수 $g(x)$ 가 다음 조건을 만족시킬 때, $f(4)$ 의 값을 구하시오. [4점]

(가) 모든 실수 x 에 대하여 $f(x) = f(1) + (x-1)f'(g(x))$ 이다.

(나) 함수 $g(x)$ 의 최솟값은 $\frac{5}{2}$ 이다.

(다) $f(0) = -3, f(g(1)) = 6$

$$f'(g(x)) = \frac{f(x) - f(1)}{x-1}$$

평균변화율로 해석 가능

$$\lim_{x \rightarrow 1} \frac{f(x) - f(1)}{x-1} = \lim_{x \rightarrow 1} f'(g(x)) = f'(1)$$

$$g \text{ 연속} \Rightarrow f'(g(1)) = f'(1)$$

$$f(x) = x^3 + ax^2 + bx + c$$

(가)를 평균변화율로 생각하면

(나) 때문에 $f(x)$ 는 $x = \frac{5}{2}$ 에서의 접선이

$$(1, f(1)) \text{을 지나야 함} \Rightarrow a = -6$$

$$f(0) = -3 \Rightarrow c = -3$$

$$f'(g(1)) = f'(1) \Rightarrow g(1) = 3$$

$$f(g(1)) = f(3) = 6 \Rightarrow b = 12$$

$$f(x) = x^3 - 6x^2 + 12x - 3$$

$$\therefore f(4) = 13$$

13

* 확인 사항

○ 답안지의 해당란에 필요한 내용을 정확히 기입(표기)했는지 확인하시오.

○ 이어서, 「선택과목(확률과 통계)」 문제가 제시되오니, 자신이 선택한 과목인지 확인하시오.